

6年生の図形プリント

■対称な図形 (1)


名前 _____

(1) 6つの図形があります。この中で、線対称な形はどれですか。
また、点対称な形も答えましょう。

(ア)




(イ)



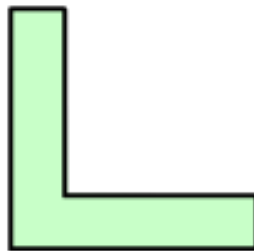
(ウ)



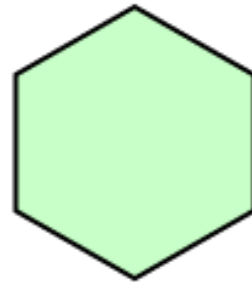
(エ)



(オ)



(カ)



線対称な形を全て答えましょう。

点対称な形を全て答えましょう。

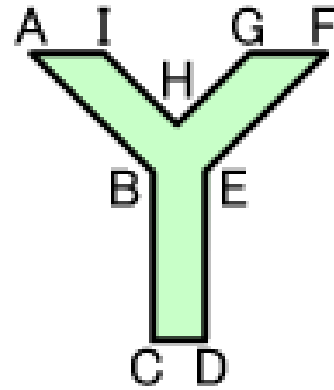
6年生の図形プリント

■対称な図形 (1)

名前 _____

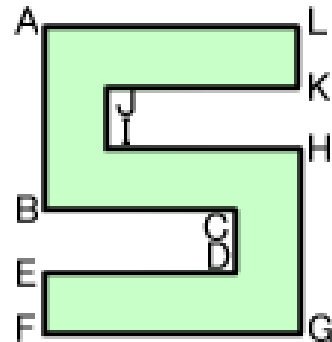
(2) 右の図は、線対称な図形です。

- ① 対称の軸を引いてください。
- ② 点Aに対応する点を答えましょう。
- ③ 点Gに対応する点を答えましょう。
- ④ 線AIに対応する線を答えましょう。
- ⑤ 線DEに対応する線を答えましょう。



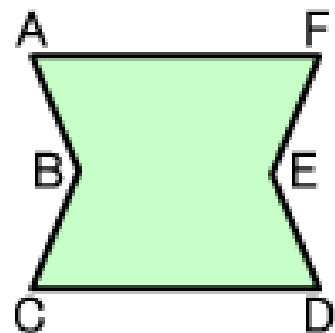
(3) 右の図は、点対称な図形です。

- ① 対称の中心に点を書きましょう。
- ② 点Bに対応する点を答えましょう。
- ③ 点Gに対応する点を答えましょう。
- ④ 線IHに対応する線を答えましょう。
- ⑤ 線LKに対応する線を答えましょう。



(4) 右の図は、線対称であり、点対称でもある図形です。

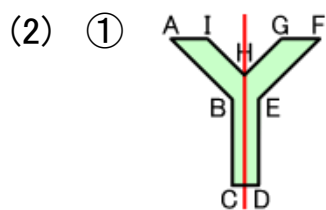
- ① 対称の軸は何本ありますか。
また、対称の軸を全て引いてください。
- ② 線BEを対称の軸とすると、点Cに対応する点はどれですか。
また、線AFに対応する線はどれですか。
- ③ 対称の中心に点を書きましょう。
- ④ この図形を点対称とすると、点Eに対応する点はどれですか。
また、線ABに対応する線はどれですか。



答え ■ 対称な図形 (1)

(1) 【線対称な形】
(ア) (イ) (ウ) (オ) (カ)

【点对称な形】
(イ) (エ) (カ)

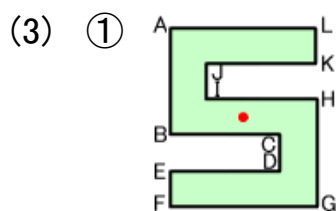


② 点F

③ 点I

④ 線FG

⑤ 線CB



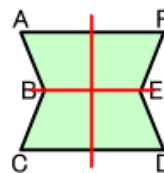
② 点H

③ 点A

④ 線CB

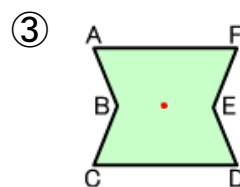
⑤ 線FE

(4) ① 2本



② 【対応する点】点A

【対応する線】線CD



④ 【対応する点】点B

【対応する線】線DE